

## YAZILI HOCAM 4-D SINIFI 1.DÖNEM 1. TRAFİK GÜVENLİĞİ SINAVI

Aşağıda verilen cümlelerin doğru olanlarının başına D, yanlış olanların başına Y harfi yazınız. (5x4=20)

- ( ) Karayolundaki taşıtlara trafik denir.
- ( ) İnsanlar trafikte yaya, yolcu ve sürücü olarak bulunur.
- ( ) Trafik kurallarına uymamak trafik kazasına sebep olmaz.
- ( ) Trafikteki en önemli unsur insandır.yazilihocam.com
- ( ) Kara yolunda hareketsiz duran veya hareket eden insana taşıt denir.

Aşağıda verilen cümleleri uygun sözcüklerle tamamlayınız. (4x4=16)

taşıt

yaya kaldırımı

banket

toplu taşıma

- 1- İnsan, hayvan ve yük taşımaya yarayan araçlara ..... denir.
- 2- Yaya kaldırımı bulunmayan kara yollarında, taşıt yolu kenarında yayaların kullanabileceği alana ..... denir.
- 3- Kara yollarında yalnız yayaların kullanması için ayrılmış alana ..... denir.
- 4- Ulaşım ihtiyacının çok sayıda insanın aynı anda taşınması ile karşılanmasına ..... denir.

Aşağıda verilen çoktan seçmeli soruların doğru seçeneklerini işaretleyiniz. (5x5=25 puan)

5- Aşağıdakilerden hangisi trafik yoğunluğunu etkileyen nedenlerden biri değildir?

- A) İnsan sayısının fazla olması
- B) Araç sayısının fazla olması
- C) Kara yollarının yapısı
- D) Çevrede yaşayan hayvanlar

6- İnsanların en temel ve vazgeçilmez hakkı nedir?

- A) Yaşama hakkı
- B) Giyinme hakkı
- C) Trafik hakkı
- D) Barınma hakkı

7- Trafik kazalarında en önemli kaza nedeni aşağıdakilerden hangisidir? yazilihocam.com

- A) Taşıtlar
- B) Yollar
- C) İnsanlar
- D) Hayvanlar

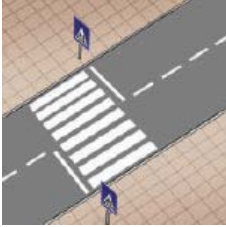
8- Trafikte hem kendimizin hem de başkalarının can güvenliğini sağlamak için ne yapmalıyız?

- A) Trafik kurallarını en iyi şekilde öğrenip uygulamalıyız.
- B) Trafik kurallarını öğrenmemize gerek yoktur.
- C) Trafik kurallarını öğrenelim ama uygulamasak da olur.
- D) Trafik kurallarına uymamıza gerek yoktur.

9- Aşağıdakilerden hangisi yayaların karşıdan karşıya güvenli geçme yerlerinden değildir?

- A) Alt geçit
- B) Banket
- C) Yaya geçidi
- D) Üst geçit

10- Aşağıdaki kavramları ilgili resimlerle eşleştiriniz.(5x6=30 puan)



Okul geçidi

Üst geçit

Banket


Yaya geçidi

Toplu taşıma


Işıklı trafik işaret cihazı



11- Trafik işaret ve levhalarının şekillerini anlamlarıyla eşleştiriniz. (3x3=9 puan)



yasaklama



bilgilendirme



uyarı

Sevgili yavrum lütfen dikkatli cevaplandır. Başarılar diliyorum. Sana güveniyorum.