

**YAZILI HOCAM İLKOKULU**  
**4/B SINIFI MATEMATİK DERSİ 1.DÖNEM 1.YAZILI SORULARI 24.11.20..**

Adı ve Soyadı:.....

Puan:.....

**1) Aşağıda verilen sayıların okunuşlarını yanına yazınız. (5X2=10 Puan)**

8356	
15272	
283309	
66308	
9290	

**2) Aşağıdaki sayıların okunuşlarını yanına yazınız. (5X2=10 Puan)**

Üç bin üç yüz kırk üç	
Yetmiş altı bin dört yüz yirmi yedi	
Beş yüz seksen altı bin iki yüz elli yedi	
Seksen bin üç yüz yetmiş dokuz	yazilihocam.com
Yüz iki bin beş yüz otuz üç	

**3)Aşağıdaki sayıları en yakın onluğa ve en yakın yüzlüğe yuvarlayınız. (10x1=10 Puan)**

Sayı	En Yakın Yüzlük
24 <u>3</u> 8	
<u>4</u> 49	
68 <u>6</u> 7	
3256	
6468	

Sayı	En Yakın Onluk
32 <u>3</u>	
57 <u>9</u>	
1279	
3285	
4064	

**4.) Aşağıdaki sayının basamak adlarını ve basamak değerlerini karşlarına yazınız.(10 P)**

9 4 6 3 8 2	BASAMAK ADI	BASAMAK DEĞERİ
↓	.....	.....
↓	.....	.....
↓	.....	.....
↓	.....	.....
↓	.....	.....
↓	.....	.....

**5.)Aşağıdaki sayıları yönergelere göre sıralayınız. (2x5= 10 Puan)**

A)905 550 – 80 505 – 650 500 – 5 550 sayılarını büyükten küçüğe sıralayınız.

.....

B) 125 200 – 212 500 – 32 125 – 22 350 – 820 200 sayılarını küçükten büyüğe sıralayınız.

.....

6) Aşağıdaki çözümlenmiş sayıları bulup yazınız. ( 5x2=10 puan)

- $400.000+50.000+600+20 =$
- $30.000+4000+300+50+8 =$
- $700.000+5000+400+70+2 =$
- $80.000+7000+60+3 =$

7- 

7	12	9	14	11		
---	----	---	----	----	--	--

Yukarıdaki sayı örüntüsünde boşlukları doldurup örüntünün kuralını aşağıya yazalım? (7puan)

Kural:.....

8-Bir çiftçi meyve tarlasından 3 525 kg elma, 2160 kg armut ve 4 115 kg üzüm alıyor. Buna göre, çiftçi toplam kaç kg ürün almıştır? (5p)

9. Bir çiftçi tarlasından birinci yıl 2240 kg, ikinci yıl 2100 kg, üçüncü yıl ise ilk iki yılın toplamı kadar buğday üretmiştir. Bu çiftçi üç yılda toplam kaç kg buğday üretmiştir? (5p)

10. Mert ile Burak bir mağazaya gittiler. Mert 2456 lira harcadı,Burak ise Mert'ten 324 lira fazla para harcadı.Buna göre ikisi toplam kaç lira harcamıştır?5P

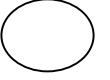
10. Aşağıdaki noktalı yere sayıları yazınız. (8Puan)

Birler Bölüğü 307, Binler Bölüğü 9 =.....

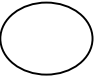
Binler Bölüğü 72, Birler Bölüğü 524 =.....

11. :Aşağıdaki işlemleri en yakın onluğa yuvarlayarak tahmin ediniz.tahmininizi gerçek sonuçlar karşılaştırıp aradaki farkı bulunuz.10P

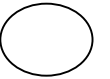
a) 
$$\begin{array}{r} 475 \\ + 263 \\ \hline \end{array}$$



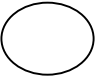
b) 
$$\begin{array}{r} 742 \\ + 281 \\ \hline \end{array}$$



c) 
$$\begin{array}{r} 756 \\ - 246 \\ \hline \end{array}$$



d) 
$$\begin{array}{r} 852 \\ - 328 \\ \hline \end{array}$$



\_ BAŞARILAR \_

